


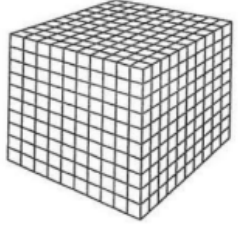


ALUNO: _____

DATA: ___/___/____ SÉRIE: _____ PROFESSORA: _____

MATEMÁTICA – Unidade, Dezena e Centena

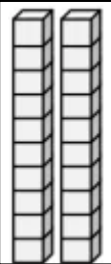
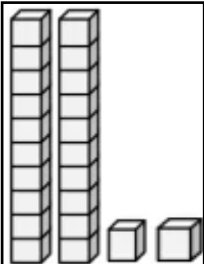
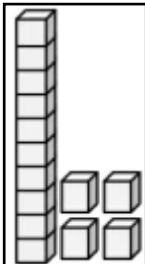
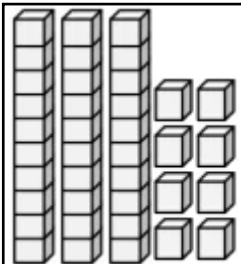
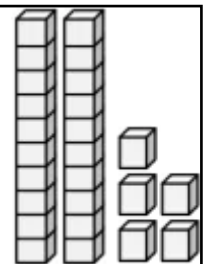

			
CUBINHO 1 unidade	BARRA 10 cubinhos = 10 unidades ou 1 dezena	PLACA 10 barras = 100 cubinhos ou 1 centena	CUBO 10 placas = 100 barras ou 1000 cubinhos ou 1 milhar

SILVA, Eleúzia Lins da. Apostila com Material Dourado e SND até 99. Todos os direitos reservados.

1. Descubra quais são os numerais abaixo:

- | | |
|--|--|
| a) 1 centena + 5 dezenas + 6 unidades – | b) 1 centena + 0 dezenas + 4 unidades – |
| c) 1 centena + 4 dezenas + 0 unidades – | d) 1 centena + 9 dezenas + 5 unidades – |
| e) 1 centena + 8 dezenas + 9 unidades – | f) 2 centenas + 3 dezenas + 3 unidades – |
| g) 3 centenas + 7 dezenas + 2 unidades – | h) 1 centenas + 7 dezenas + 1 unidade – |
| i) 2 centenas + 0 dezenas + 9 unidades – | j) 3 centenas + 1 dezena + 7 unidades – |

2. Pinte os quadrados que possuem mais de 15 unidades e coloque a quantidade ao lado:

					
_____	_____	_____	_____	_____	_____